

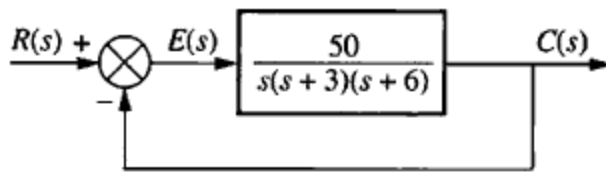
INSTITUTO TECNOLÓGICO DE MAZATLÁN  
CONTROL II

PRÁCTICA 2

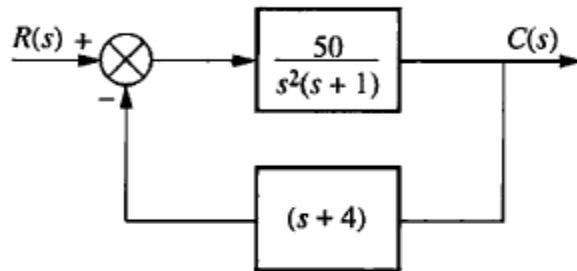
Para cada uno de los siguientes sistemas:

- 1- Obtenga la función de transferencia de lazo cerrado  $T(s)$
- 2- Grafique la respuesta escalón.
- 3- Grafique las trazas de Bode de magnitud y fase

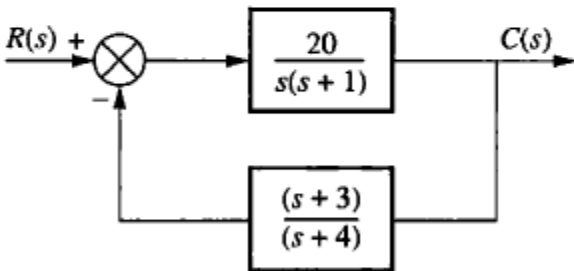
Realice un reporte con todos los resultados obtenidos y mostrar al profesor.  
Enviar reporte a [jrterven@itmazatlan.edu.mx](mailto:jrterven@itmazatlan.edu.mx)



System 1



System 2



System 3

